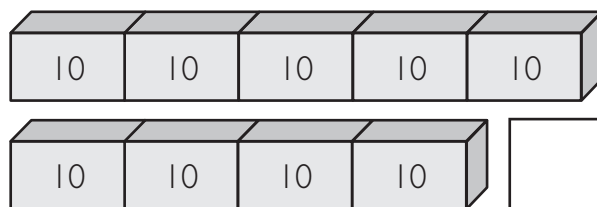
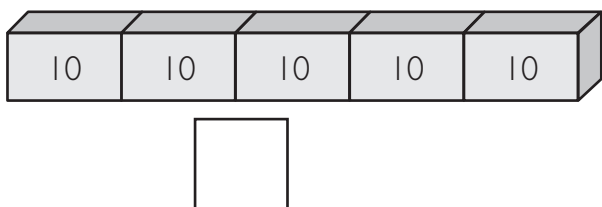
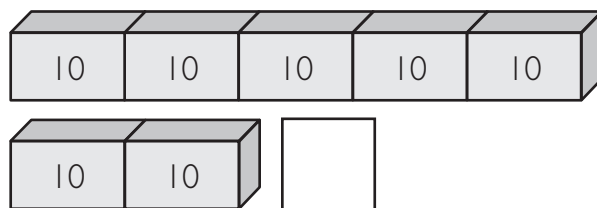
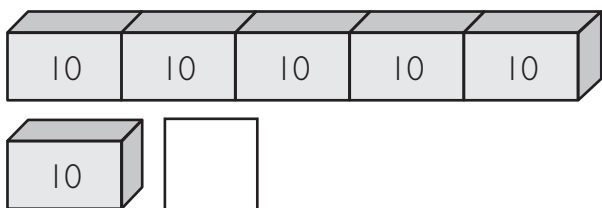
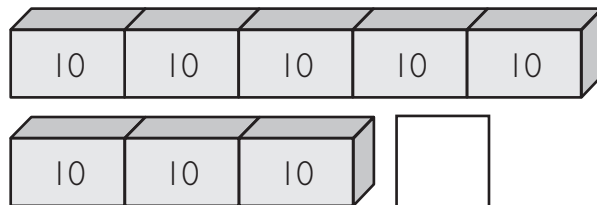
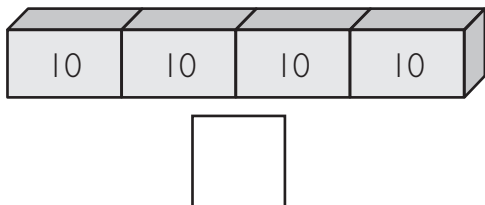
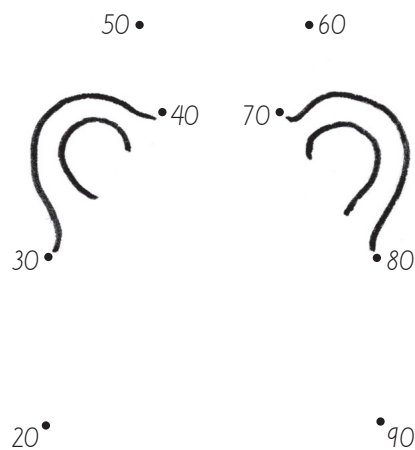
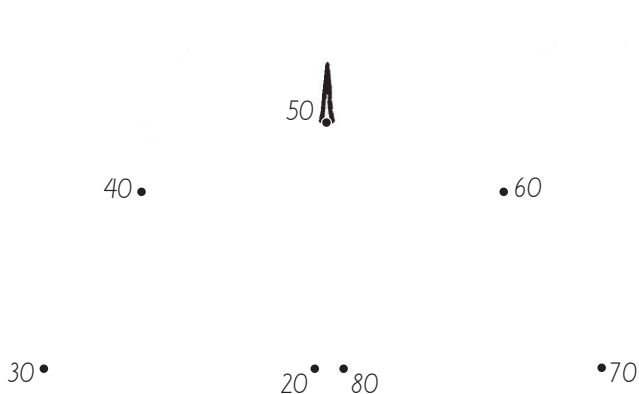


Kymmenet laatikoissa

1. Yhdessä laatikossa on 10 tikkua. Kuinka monta tikkua laatikoissa on yhteensä?







2. Yhdistä pisteet 10–100 kymmenen välein.




Kymmenet pisteinä

1. Kuinka monta pisteitä on yhteensä?

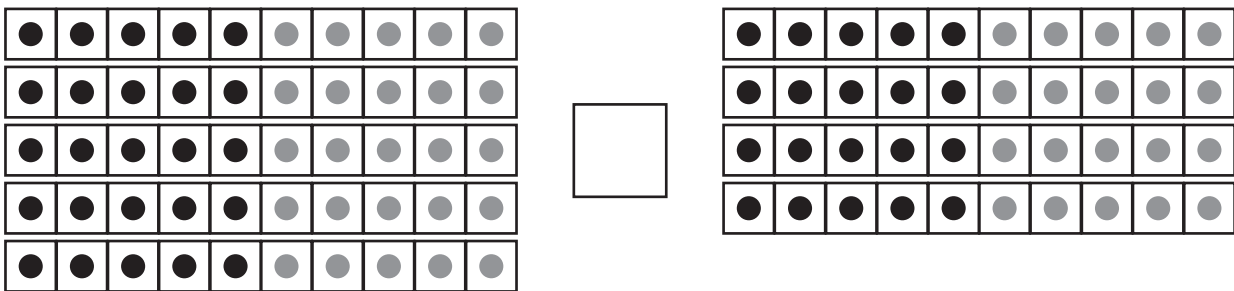



2. Yhdistä pisteet 10–100 kymmenen välein. Aloita luvusta 100.



Kymmenlukujen vertailua

1. Vertaile lukumääriä. Piirrä vertailumerkki > tai <.



2. Vertaile lukuja. Piirrä vertailumerkki > tai <.

40 □ 80



90 □ 80

70 □ 50

60 □ 40

20 □ 30



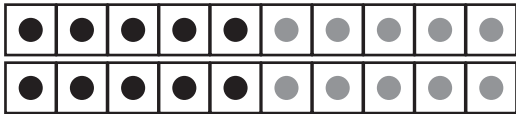
50 □ 90


90 □ 30


70 □ 60

Lisää tai vähennä kymmenen A

1. Kuinka monta pistettä on yhteensä? Lisää sitten 10 ja vähennä 10.

	<input type="text"/>	lisää 10	<input type="text"/>
		vähennä 10	<input type="text"/>

	<input type="text"/>	lisää 10	<input type="text"/>
		vähennä 10	<input type="text"/>

	<input type="text"/>	lisää 10	<input type="text"/>
		vähennä 10	<input type="text"/>

2. Lisää lukuun 10 ja vähennä luvusta 10.

<input type="text"/>	← vähennä 10	40	→ lisää 10	<input type="text"/>
----------------------	--------------	----	------------	----------------------

<input type="text"/>	← vähennä 10	80	→ lisää 10	<input type="text"/>
----------------------	--------------	----	------------	----------------------

<input type="text"/>	← vähennä 10	60	→ lisää 10	<input type="text"/>
----------------------	--------------	----	------------	----------------------

Lisää tai vähennä kymmenen B

1. Kuinka monta pistettä on yhteensä? Lisää sitten 10 ja vähennä 10.

	<input type="text"/>	lisää 10	<input type="text"/>
		vähennä 10	<input type="text"/>

	<input type="text"/>	lisää 10	<input type="text"/>
		vähennä 10	<input type="text"/>

	<input type="text"/>	lisää 10	<input type="text"/>
		vähennä 10	<input type="text"/>

2. Lisää lukuun 10 ja vähennä luvusta 10.

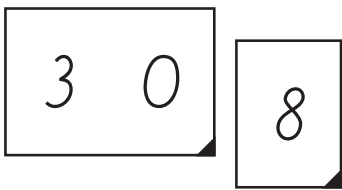
<input type="text"/>	← vähennä 10	52	→ lisää 10	<input type="text"/>
----------------------	--------------	----	------------	----------------------

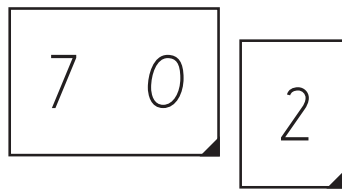
<input type="text"/>	← vähennä 10	78	→ lisää 10	<input type="text"/>
----------------------	--------------	----	------------	----------------------

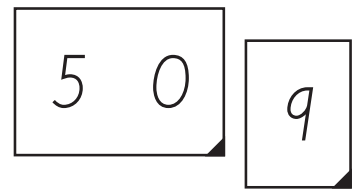
<input type="text"/>	← vähennä 10	41	→ lisää 10	<input type="text"/>
----------------------	--------------	----	------------	----------------------

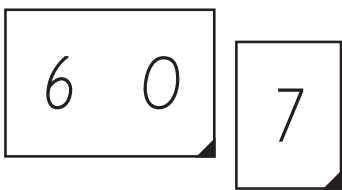
Lukujen rakentaminen 1–100

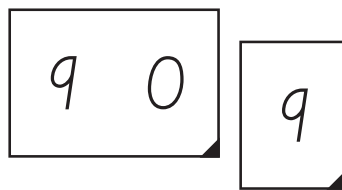
1. Mikä luku numerokorteista muodostuu?

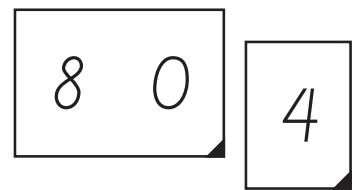




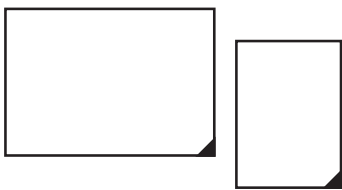




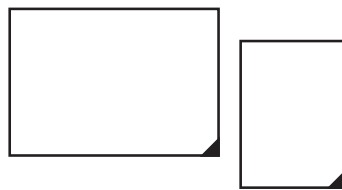




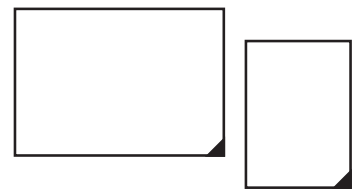
2. Hajota luku. Kirjoita numerokortteihin oikeat luvut.



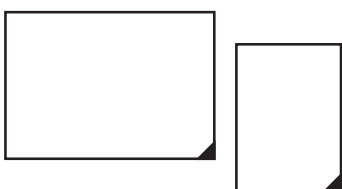
43



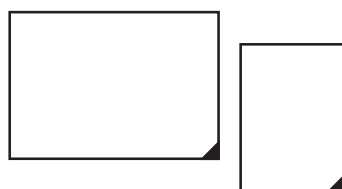
25



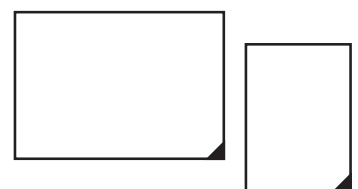
91



56



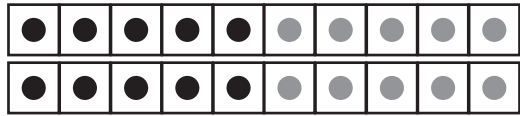
77





19

Edellinen ja seuraava luku

1. Kuinka monta pistettä on yhteensä? Lisää sitten 1 ja vähennä 1.

	<input type="text"/>	lisää 1	<input type="text"/>
		vähennä 1	<input type="text"/>

	<input type="text"/>	lisää 1	<input type="text"/>
		vähennä 1	<input type="text"/>


	<input type="text"/>	lisää 1	<input type="text"/>
		vähennä 1	<input type="text"/>

2. Kirjoita edellinen ja seuraava luku.

<input type="text"/>	40	<input type="text"/>
----------------------	----	----------------------

<input type="text"/>	20	<input type="text"/>
----------------------	----	----------------------

<input type="text"/>	80	<input type="text"/>
----------------------	----	----------------------



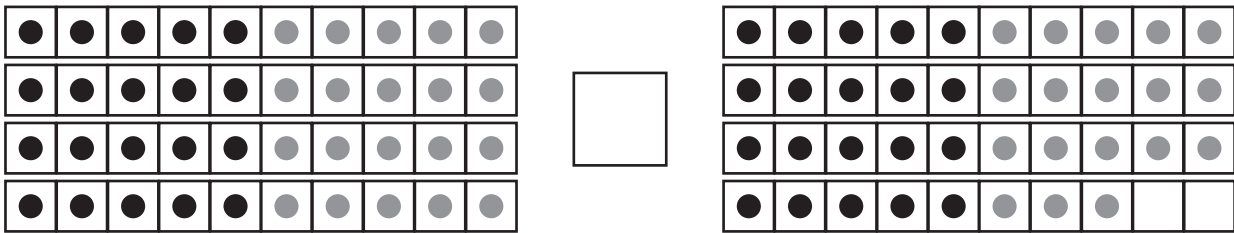

<input type="text"/>	90	<input type="text"/>
----------------------	----	----------------------

<input type="text"/>	70	<input type="text"/>
----------------------	----	----------------------

<input type="text"/>	60	<input type="text"/>
----------------------	----	----------------------

Vertaile lukuja 1–100

1. Vertaile lukumääriä. Piirrä vertailumerkki $>$ tai $<$.



2. Vertaile lukuja. Piirrä vertailumerkki $>$ tai $<$.

39 □ 40

75 □ 68

90 □ 88

42 □ 36



50 □ 82

64 □ 46

29 □ 40

55 □ 66

Sadat ja kymmenet

1. Kirjoita kolme satasta järjestyksessä pienimmästä suurimpaan.

400 200 300

200 100 300

500 700 600

900 700 800

500 600 400

700 800 600

2. Mikä luku numerokorteista muodostuu?

2 0 0 4 0

7 0 0 5 0

9 0 0 1 0

5 0 0 8 0

Tuhatuudukko

I. Täydennä puuttuvat luvut.

10	20		40	50		70	80	90	100
	120	130	140		160	170	180		200
210		230	240	250	260		280	290	
310	320	330		350	360	370		390	400
	420	430	440	450		470	480		500
510	520		540	550	560		580	590	600
610		630	640		660	670		690	
710	720	730		750	760	770	780		800
	820		840	850		870	880	890	
910	920	930	940		960		980	990	1000

